

Prova orale URNA 1 – Domanda n. 1

CHE COS'E' UNA MASSA?

Handwritten scribbles and symbols, possibly initials or a signature.

Prova orale URNA 1 – Domanda n. 2

CHE COS'E' UNA MASSA ESTRANEA ?

[Handwritten signature]

Prova orale URNA 1 – Domanda n. 3

QUAL'E' IL SIGNIFICATO DEL CONTATTO DIRETTO ?

h DS SL
SP

Prova orale URNA 1 – Domanda n. 4

QUAL'E' IL SIGNIFICATO DI CONTATTO INDIRECTO ?

h DS SA
EP

Prova orale URNA 1 – Domanda n. 5

**IN UN QUADRO ELETTRICO LO SPORTELLO DEVE ESSERE COLLEGATO A
TERRA?**

1. SÌ
2. NO
3. SÌ


Prova orale URNA 1 – Domanda n. 6

I PALI DI PUBBLICA ILLUMINAZIONE DEVONO SEMPRE ESSERE COLLEGATI AD UN IMPIANTO DI TERRA UNICO NEL CASO SI UTILIZZI CORPI ILLUMINANTI A DOPPIO ISOLAMENTO O CLASSE 2?

h DA JA AP

Prova orale URNA 1 – Domanda n. 7

QUALI SONO LE PRINCIPALI VERIFICHE DA FARE PER UN IMPIANTO DI MESSA A TERRA?

Handwritten signature and scribbles, possibly initials or a name, located at the bottom of the page.

Prova orale URNA 1 – Domanda n. 8

**QUALI SONO I COMPONENTI PRINCIPALI DI UN APPARECCHIO ILLUMINANTE
CON LAMPADA A IODURI METALLICI?**

h PA SA
MP

Prova orale URNA 2 –Domanda n.1

PER EFFETTUARE LA MISURA DELLA CORRENTE ELETTRICA (I) DI UN CIRCUITO CON UN AMPEROMETRO, COME VA INSERITO?




Prova orale URNA 2 –Domanda n.2

^{LEV}
IN UN IMPIANTO DI RIVELAZIONE INCENDI LO STATO DI UN RIVELATORE DI
^{LEV}
FUMO POSTO SOPRA AL CONTROSOFFITTO,DOVE DEVE ESSERE RIPORTATO
OLTRE CHE ALLA CENTRALINA DI MONITORAGGIO?

h DA SA
AP

Prova orale URNA 2 – Domanda n.3

IN UN CIRCUITO CON ASSORBIMENTO DI 500Watt ALIMENTATO CON TENSIONE 100V, CALCOLARE LA CORRENTE (I) CHE CIRCOLA?



Prova orale URNA 2 – Domanda n. 4

IN RELAZIONE ALLA FORMULA DELLA POTENZA ELETTRICA IN UN SISTEMA MONOFASE, CALCOLARE LA POTENZA IN UN CIRCUITO ALIMENTATO CON 220V E CON UN ASSORBIMENTO DI 5 Ampere ?

Handwritten scribbles and marks, possibly including a signature or initials.

Prova orale URNA 2 – Domanda n.5

QUALI APPARECCHIATURE COSTITUISCONO UN CARICO INDUTTIVO?

h ~~*SA*~~ *SE*
SS

Prova orale URNA 2 – Domanda n. 6

IL RIFASAMENTO DI UN CARICO OHMICO- INDUTTIVO A COSA SERVE?

[Handwritten signature]

Prova orale URNA 2 – Domanda n. 7

QUAL'E' LA DIFFERENZA TRA GLI INTERRUTTORI DI TIPO A E DI TIPO AC ?

[Handwritten signature]

Prova orale URNA 2 – Domanda n. 8

**CHE COSA E' NECESSARIO PER RIFASARE UN CARICO OHMICO-
INDUTTIVO CON $\cos\varphi$ MINORE DEL VALORE CONSENTITO DALLA
NORMATIVA O COMUNQUE CON $\cos\varphi$ BASSO ?**

Handwritten scribbles and initials, possibly representing a signature or initials.

Prova orale URNA 3 – Domanda n. 1

Ai sensi dell'art. 32 del D.lgs n. 267/2000 e s.m.i il candidato definisca che cos'è "l'Unione di Comuni" e illustri da chi è composto e qual'è la sua finalità.

Three handwritten signatures in black ink, arranged horizontally. The first is a simple cursive 'L'. The second is a more complex signature with a large loop and a horizontal line. The third is a signature with a large 'S' and a smaller 'R' below it.

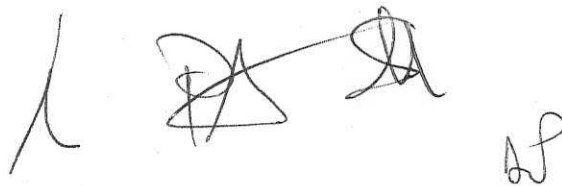
Prova orale URNA 3 – Domanda n. 2

Ai sensi degli artt. 47 e 48 del D.lgs n. 267/2000 e s.m.i il candidato illustri la composizione e la competenza della giunta comunale.

Three handwritten signatures in black ink, arranged horizontally from left to right. The first signature is a simple, stylized 'L' shape. The second is a more complex, scribbled signature. The third is a signature that appears to be 'SP' with a flourish above it.

Prova orale URNA 3 – Domanda n.3

Ai sensi dell'art 50 del D.lgs n. 267/2000 e s.m.i il candidato illustri le competenze del Sindaco.

Handwritten signature and initials. The signature consists of a stylized 'L' followed by a large, complex scribble. To the right of the scribble are the initials 'SA'. Further to the right, there are the initials 'SP'.


Prova orale URNA 3– Domanda n.4

Ai sensi del D.lgs n. 267/2000 e s.m.i il candidato definisca che cos'è il Consiglio comunale e illustri le sue principali competenze.

A handwritten signature in black ink, consisting of a stylized 'A' followed by a series of loops and a final flourish.

Prova orale URNA 3 – Domanda n. 5

Ai sensi dell'art. 6 del D.lgs n. 267/2000 e s.m.i il candidato illustri che cosa stabilisce lo "Statuto" e da quale organo di governo viene "deliberato".

A handwritten signature in black ink, consisting of a stylized first letter followed by a series of loops and a final flourish.

Prova orale URNA 3 – Domanda n. 6

**Ai sensi dell'art. 107 del D.lgs n. 267/2000 e s.m.i. il candidato illustri le
"funzioni e responsabilità della dirigenza".**

Handwritten signature and initials in black ink. The signature consists of a stylized 'L' followed by a large 'D' and 'S' intertwined, and a smaller 'SA' to the right. Below the signature, the initials 'AP' are written.


Prova orale URNA 3 – Domanda n. 7

Ai sensi dell'art 50 D.lgs n. 267/2000 il candidato descriva il segno distintivo del sindaco e del presidente della provincia e illustri le colorazioni e gli stemmi delle rispettive fasce.

Handwritten signature or initials, possibly "MP" or similar, with a large flourish.

Prova orale URNA 3 – Domanda n. 8

Ai sensi dell'art. 36 del D.lgs n. 267/2000 e s.m.i. il candidato illustri quali sono gli Organi di governo del Comune e quali di questi operano attraverso "deliberazioni collegiali".

A handwritten signature in black ink, consisting of several stylized, overlapping loops and lines, located at the bottom center of the page.


Prova orale URNA 4 – Domanda n. 1

Cos'è una cella in un foglio di calcolo ?

1) L'intersezione di una riga e di una colonna

2) L'intersezione di due colonne

3) L'intersezione di due righe



Handwritten signature and initials, possibly 'SP'.

Prova orale URNA 4 – Domanda n. 2

Qual'è la funzione principale di un foglio di calcolo ?

- 1) Organizzare dati in documenti di testo**
- 2) Organizzare dati in una presentazione**
- 3) Organizzare dati in tabelle**

Handwritten signature and initials in black ink, consisting of a stylized 'A' followed by 'SA' and 'SP' below it.


Prova orale URNA 4 – Domanda n.3

Quale applicativo tra tra quelli elencati utilizzerebbe per inviare una mail ?

1) power point

2) access

3) outlook

Handwritten signature and initials in black ink, consisting of a stylized name and the initials 'BP' below it.

Prova orale URNA 4 – Domanda n.4

Quale applicativo tra tra quelli elencati utilizzerebbe per scrivere un documento di testo ?

1) excel

2) word

3) autocad

1) word
2) word
3) word

Prova orale URNA 4 – Domanda n.5

Quale applicativo tra quelli elencati utilizzerebbe per creare un foglio di calcolo ?

1) acrobat

2) excel

3) zoom

Handwritten marks: a checkmark, a large scribble, and the initials 'SM' and 'AS'.

Prova orale URNA 4 – Domanda n. 6

In Microsoft Excel i grafici :

- 1) Vanno sempre inseriti nel foglio che contiene i dati da cui si genera il grafico**
- 2) Vanno sempre inseriti in un nuovo foglio**
- 3) Può essere inserito in un foglio qualsiasi**

1 2 3
SP

Prova orale URNA 4 – Domanda n. 7

Tra questi file con questi suffissi qual'è quello che corrisponde ad un foglio elettronico ?

1) .jpeg

2) .xls

3) .doc

h AS su sp

Prova orale URNA 4 – Domanda n. 8

Tra questi caratteri qual'è quello non alfanumerico ?

1) A

2) %

3) 8

L. P. S. S. S.

Prova orale URNA 5 – Domanda n. 1

Il candidato legga e traduca:

“Do not operate electrical tools outdoors in the presence of rain, fog, storm or wet environments”

人 2 Su 1

Prova orale URNA 5 – Domanda n. 2

Il candidato legga e traduca:


“Electrical hazards cannot normally be perceived by the senses (sight, hearing, touch): give the utmost attention so as not to touch live parts

A handwritten signature in black ink, consisting of a stylized initial 'A' followed by a horizontal line and a cursive name.

Prova orale URNA 5 – Domanda n.3

Il candidato legga e traduca:

“for activities that involve potential risk to your safety, always work together with a second person”

A handwritten signature in black ink, consisting of a stylized 'A' followed by a large, complex looped structure, and ending with a small flourish.

Prova orale URNA 5 – Domanda n.4

Il candidato legga e traduca:


“We used a clamp meter (pinza amperometrica) to measure the total power absorbed by the power supply”

Il candidato ha scritto una risposta illeggibile in corsivo.

Prova orale URNA 5 – Domanda n. 5

Il candidato legga e traduca:

“Do not operate electrical tools in explosive atmosphere or in presence of flammable liquids, gases or powders”




A handwritten signature consisting of a stylized 'A' followed by a large, complex scribble. Below the scribble, the initials 'AT' are written in a simple, blocky font.

Prova orale URNA 5 – Domanda n. 6

Il candidato legga e traduca:

“If the power cable is damaged, it must be replaced only by the manufacturers or qualified person”




Handwritten signature and initials, possibly reading 'A. B.' or similar, located at the bottom of the page.

Prova orale URNA 5 – Domanda n. 7

Il candidato legga e traduca:


“Always wear personal protective equipment such as electrical safety gloves, sturdy (robusto) clothing and safety footwear”

A handwritten signature in black ink, consisting of three distinct parts: a vertical line on the left, a large stylized letter 'B' in the middle, and a cursive 'S' on the right with a small flourish below it.

Prova orale URNA 5 – Domanda n. 8

Il candidato legga e traduca:

“Keep children and unauthorized people at a distance when operating an electrical tool: distractions may lead to an accident”

Handwritten signature and initials in black ink. The signature is a stylized, cursive name, and the initials below it are 'DP'.