



3) Ai sensi dell'art. 105 et al. del Codice dei Contratti, illustrare cosa si intende per RTI e 'Associazione in partecipazione' - **8 righe**

---

---

---

---

---

---

---

---

---

---

4) L'Amministrazione comunale ha intenzione di realizzare un parcheggio pubblico in area di proprietà comunale in adiacenza a una pubblica via di larghezza 5 mt. L'area attualmente a campo incolto ha una dimensione di 200mq (20mt x 10mt). Individuare la procedura di appalto ed il criterio di aggiudicazione ai sensi del Dlgs 50/2016 e smi. Descrivere sommariamente il procedimento fino alla conclusione dell'intervento - **15 righe**

---

---

---

---

---

---

---

---

---

---

---

---

---

---

---

---

---

---

---





---

---

---

---

---

5) Il candidato illustri la procedura di “somma urgenza” prevista dall’art. 163 del Dlgs 50/2016 – **10 righe**

---

---

---

---

---

---

---

---

---

---

---

---

6) La programmazione dei lavori pubblici: Piano triennale e piano annuale delle opere pubbliche. Soggetti coinvolti e iter procedurale – **10 righe**

---

---

---

---

---

---

---

---

---

---

---

---

7) Cosa sono in AutoCAD i “riferimenti esterni”?

- ▀ Elementi del disegno fuori dall’area di stampa;
- ▀ Elementi anche normativi utili alla compilazione dell’elaborato;
- ▀ File di disegno esterno, che viene richiamato all’interno del nostro progetto, attraverso un angolo di rotazione e i fattori di scala X e Y;



*Handwritten signatures and marks at the bottom right of the page.*